

**Numération :** ranger les nombres jusqu'à 9 999

1) Range les nombres dans les étiquettes (ordre décroissant).

4 228      6 442      3 771      8 110      5 002      1 558

--	--	--	--	--	--

3 811      3 894      3 845      3 808      3 867      3 880

--	--	--	--	--	--

6 236      6 480      6 840      6 000      6 632      6 710

--	--	--	--	--	--

2) Voici les hauteurs, en mètres, de quelques montagnes du monde.

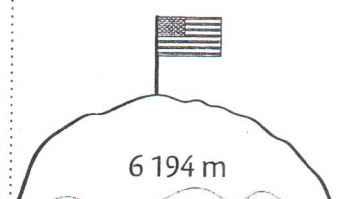
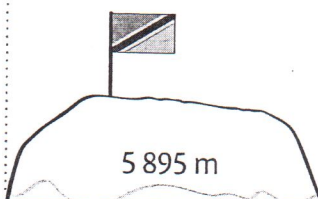
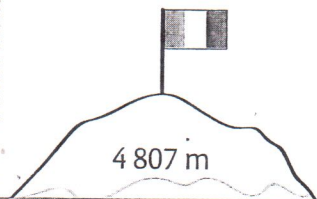
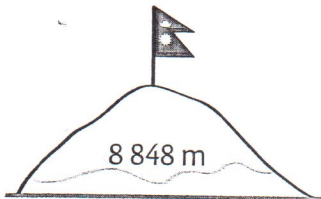
Range-les dans l'ordre croissant : ....., ....., .....

Mont Everest  
(Népal)

Mont Blanc  
(France)

Mont Kilimandjaro  
(Tanzanie)

Mont McKinley  
(États-Unis)



3) Range ces fleuves du plus long au plus court.

Loire	1 013 km	1- _____
Dniepr	2 290 km	2- _____
Rhin	1 320 km	3- _____
Danube	3 020 km	4- _____
Tage	1 006 km	5- _____
Volga	3 700 km	6- _____

4) Voici les distances entre Paris et certaines capitales européennes.

Range ces villes de la plus proche à la plus éloignée de Paris.

Bruxelles : 296 km	Madrid : 1 260 km
Rome : 1 437 km	Berlin : 1 100 km
Londres : 465 km	Dublin : 999 km

- 1- \_\_\_\_\_
- 2- \_\_\_\_\_
- 3- \_\_\_\_\_
- 4- \_\_\_\_\_
- 5- \_\_\_\_\_
- 6- \_\_\_\_\_