


prénom : _____

date : ____/____/____


Mesurer des longueurs avec une règle graduée

✓ Je mesure et je trace des segments en utilisant une règle graduée en centimètres (cm).




La longueur du segment est 7 centimètres. On écrit 7 cm.


Complète.



..... cm



..... cm




..... cm


Mesure chaque objet.



..... cm



..... cm



..... cm



..... cm

Sami avait écrit tous les nombres de 82 à 96. Retrouve les nombres qui ont disparu.

86

93



83



82

95



89

85



96

91



.....

.....

.....

.....



.....

.....





Utilise la règle pour mesurer chaque segment.

3





Sur chaque ligne, trace le segment demandé.

4



Entoure les chemins qui ont la même longueur que le chemin rouge.

5



Complète.



$60 + 30 = 90$

$..... + 40 = 90$

$50 + = 90$

$10 + = 90$

$20 + = 90$

$80 + = 90$