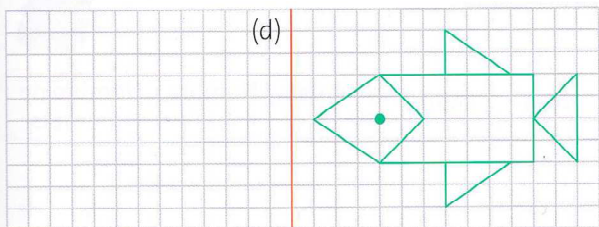


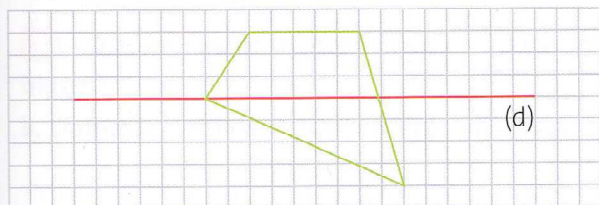
Je m'entraîne

Construire le symétrique d'une figure

3 * Construis le symétrique de cette figure par rapport à la droite (d).

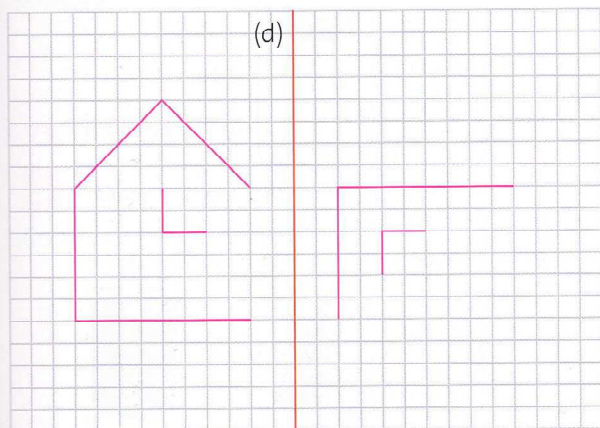


4 * Trace le symétrique de cette figure par rapport à la droite (d).

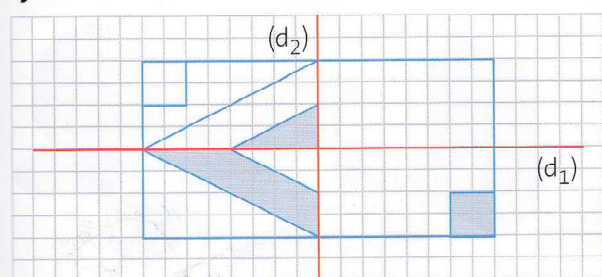


Compléter une figure par symétrie

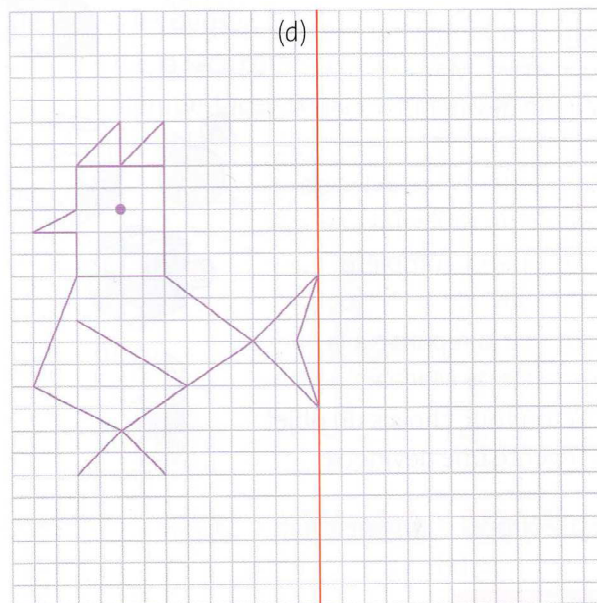
5 * Recopie cette figure sur ton cahier et complète-la de façon à ce que (d) soit un axe de symétrie.



6 * Reproduis la figure ci-dessous sur ton cahier et complète-la de façon à ce que (d) soit un axe de symétrie.

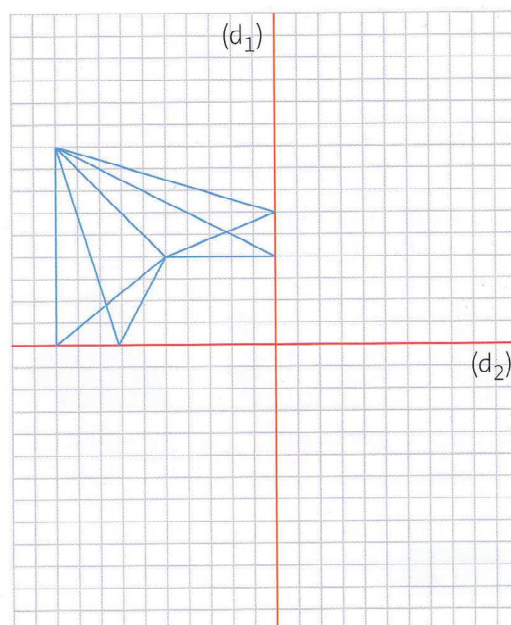


7 * Trace le symétrique de cette figure par rapport à la droite (d).



À toi de jouer

Reproduis la figure ci-dessous sur ton cahier.



Construis ensuite le symétrique de cette figure par rapport à la droite (d_1) .
Construis ensuite le symétrique de la nouvelle figure par rapport à la droite (d_2) .