

Prénom : .....

Date : .....

## Les solides

### 1. Comment s'appelle ce solide ?

Repasse les arêtes en vert, dessine un point rouge sur chaque sommet et colorie une face en bleu.

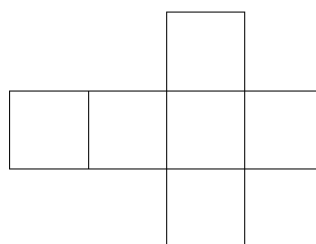


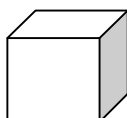


Complète le tableau et la phrase en dessous:

<u>Nombre de sommets</u>	<u>Nombre de faces</u>	<u>Nombre d'arêtes</u>

C'est un .....

### 2. relie le patron avec le solide correspondant :



### 3. Observe ce cube et son patron. Sur les deux :

Colorie en rouge une face.

Repasse en bleu une arête.

Quelle est la forme des faces de ce cube ? .....

