



15 Les moitiés


Date :

1 Dessine la moitié du nombre indiqué dans une case et l'autre moitié dans l'autre case.


6  → La moitié de 6, c'est : 3

10  → La moitié de 10, c'est : \_\_\_\_\_

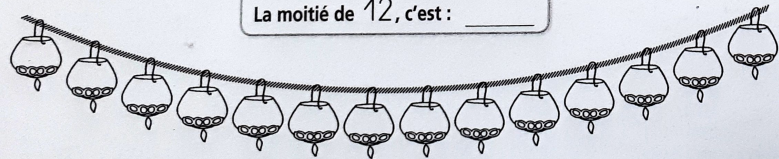
8  → La moitié de 8, c'est : \_\_\_\_\_

4  → La moitié de 4, c'est : \_\_\_\_\_

2 Sur chaque guirlande, colorie la moitié des lampions en jaune et l'autre moitié en bleu.



La moitié de 12, c'est : \_\_\_\_\_



La moitié de 14, c'est : \_\_\_\_\_

16 Les moitiés

Date :


1 Écris la moitié de chacun de ces nombres.

La moitié de 6, c'est : \_\_\_\_\_

La moitié de 8, c'est : \_\_\_\_\_

La moitié de 10, c'est : \_\_\_\_\_

Pour trouver les moitiés, tu dois connaître les doubles.



$1 + 1 = 2$   
 $2 + 2 = 4$   
 $3 + 3 = 6$   
 $4 + 4 = 8$   
 $5 + 5 = 10$   
 $6 + 6 = 12$

2 Écris la moitié de chacun de ces nombres.

Nombres	12	2	14	18	20	16	4
Moitiés	<input type="text"/>	<input type="text"/>	<input type="text"/>	<input type="text"/>	<input type="text"/>	<input type="text"/>	<input type="text"/>

3 Relie chaque nombre à sa moitié.

40	10	60	80	30	8	20
30	20	5	15	10	40	4

