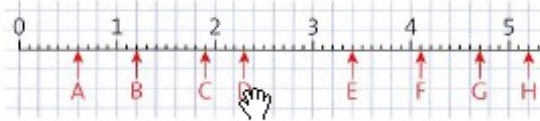
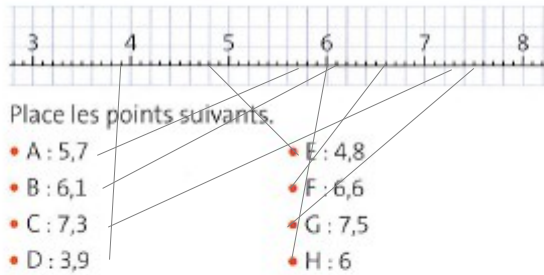


Repérer et placer des nombres décimaux sur une droite graduée

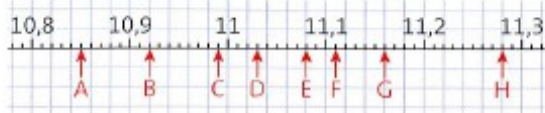
3 • Écris, pour chaque lettre, le nombre décimal qui correspond.



4 • Reproduis la droite graduée sur ton cahier.



5 • Écris, pour chaque lettre, le nombre décimal qui correspond.



correction :

3 A : 0,6 - B : 1,2 - C : 1,9 - D : 2,3 - E : 3,4 - F : 4,1 - G : 4,7 - H : 5,2

4 voir plus haut

5 A : 10,85 - B : 10,92 - C : 10,99 - D : 11,03 - E : 11,08 - F : 11,11 - G : 11,16 - H : 11,28